

Základní rozdělení pravděpodobnosti

Diskrétní rozdělení pravděpodobnosti

1. Pojem Náhodná veličina s **Binomickým rozdělením** $\text{Bi}(n, p)$, kde n je přirozené číslo, p je reálné číslo, $0 < p < 1$ má pravděpodobnostní funkci

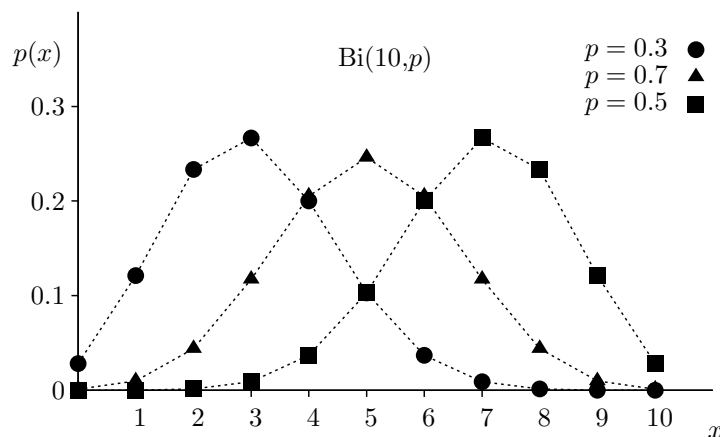
$$p(x) = \binom{n}{x} p^x (1-p)^{n-x}, \quad x = 0, 1, \dots, n$$

2. Vlastnosti Číselné charakteristiky binomického rozdělení jsou

$$\begin{aligned} E(X) &= np \\ D(X) &= np(1-p) \\ A_3(X) &= \frac{1-2p}{\sqrt{np(1-p)}} \\ (n+1)p - 1 &\leq \hat{x} \leq (n+1)p. \end{aligned}$$

Toto rozdělení má náhodná veličina X udávající počet nastoupení sledovaného náhodného jevu v posloupnosti n vzájemně nezávislých pokusů. Jedná se také o popis tzv. **náhodného výběru s vrácením**, kdy např. postupně vybíráme z dodávky n výrobků ke kontrole, X je počet zmetků mezi nimi, p je pravděpodobnost výroby zmetku, a každý vybraný výrobek vracíme zpět do dodávky (to znamená, že může být znovu kontrolován).

3. Poznámka Na Obrázku 1 jsou uvedeny příklady pravděpodobnostních funkcí binomického rozdělení. Pro $p = 0.5$ je binomické rozdělení symetrické a pro $p > 0.5$, resp. $p < 0.5$, je záporně, resp. kladně, asymetrické.



Obrázek 1: Grafy pravděpodobnostní funkce binomického rozdělení pro $n = 10$ a různé hodnoty parametru p . Přerušovaná čára je použita pouze pro odlišení jednotlivých pravděpodobnostních funkcí.

4. Pojem Rozdělení $\text{Bi}(1, p)$, tedy pro $n = 1$, se nazývá **alternativní rozdělení** a značí se $A(p)$.

5. Vlastnosti Náhodná veličina $X = X_1 + \dots + X_k$, kde náhodné veličiny X_j , $j = 1, \dots, k$ jsou nezávislé a mají binomická rozdělení $\text{Bi}(n_j, p)$ se stejným parametrem p , má binomické rozdělení $\text{Bi}(n, p)$, kde $n = n_1 + \dots + n_k$.

Speciálně součet n nezávislých náhodných veličin s alternativním rozdělením $A(p)$ má binomické rozdělení $\text{Bi}(n, p)$.

6. Příklad V dodávce 50 výrobků je 5 zmetků. Z dodávky jsou náhodně vybrány 3 výrobky. Počet zmetků mezi vybranými výrobky je náhodná veličina X . Určete typ jejího rozdělení pravděpodobnosti, její pravděpodobnostní funkci $p(x)$, střední hodnotu $E(X)$, rozptyl $D(X)$, směrodatnou odchylku $\sigma(X)$, koeficient šikmosti $A_3(X)$, medián $x_{0.5}$, modus \hat{x} a $P(1 < X \leq 3)$. Předpokládejte, že každý vybraný výrobek se vrátí nazpět do dodávky, takže jde o náhodný výběr s vrácením.

Řešení Náhodná veličina X má rozdělení $Bi(n, p)$, kde $n = 3$ a $p = 5/50 = 0.1$. Náhodná veličina X nabývá hodnot $x = 0, 1, 2, 3$ a její pravděpodobnostní funkce je

$$p(x) = \binom{3}{x} 0.1^x \cdot 0.9^{3-x} \quad \text{pro } x = 0, 1, 2, 3.$$

Ze vzorců můžeme vypočítat následující číselné charakteristiky.

Střední hodnota $E(X) = np = 3 \cdot 0.1 = 0.3,$

Rozptyl $D(X) = np(1-p) = 3 \cdot 0.1 \cdot 0.9 = 0.27,$

Směrodatná odchylka $\sigma(X) = \sqrt{D(X)} = \sqrt{0.27} \approx 0.51962,$

Koeficient šikmosti $A_3(X) = \frac{1-2p}{\sqrt{np(1-p)}} = \frac{1-2 \cdot 0.1}{\sqrt{0.27}} \approx 2.7245,$

Medián $x_{0.5} = 0$, neboť $F(x) = p(0) = \binom{3}{0} 0.1^0 \cdot 0.9^{3-0} = 0.729 > 0.5$ pro $x \in (0; 1),$

Modus $\hat{x} = 0$, neboť $(n+1)p - 1 = -0.6$ a $(n+1)p = 0.4,$

Z pravděpodobnostní funkce pak lze přímo vypočítat pravděpodobnost.

$$P(1 < X \leq 3) = p(2) + p(3) = 0.027 + 0.001 = 0.028.$$

7. Pojem Náhodná veličina s **Hypergeometrickým rozdělením** $H(N, M, n)$, kde N, M a n jsou přirozená čísla, $1 \leq n \leq N, 1 \leq M \leq N$ má pravděpodobnostní funkci

$$p(x) = \frac{\binom{M}{x} \binom{N-M}{n-x}}{\binom{N}{n}}, \quad x = \max\{0, M - N + n\}, \dots, \min\{M, N\}.$$

8. Vlastnosti Náhodná veličina s Hypergeometrickým rozdělením má následující číselné charakteristiky

$$E(X) = n \frac{M}{N},$$

$$D(X) = n \frac{M}{N} \left(1 - \frac{M}{N}\right) \frac{N-n}{N-1},$$

$$a-1 \leq \hat{x} \leq a, \quad \text{kde } a = \frac{(M+1)(n+1)}{N+2}$$

Hypergeometrické rozdělení popisuje tzv. **náhodný výběr bez vracení**, kdy např. N je celkový počet výrobků, M je počet zmetků mezi těmito výrobky a vybereme náhodně (bez vracení jednotlivých výrobků nebo jejich skupin) celkem n výrobků, mezi nimiž je x zmetků.

9. Poznámka Na Obrázku 2 jsou uvedeny příklady pravděpodobnostních funkcí hypergeometrického rozdělení.

10. Příklad V dodávce 50 výrobků je 5 zmetků. Z dodávky jsou náhodně vybrány 3 výrobky. Počet zmetků mezi vybranými výrobky je náhodná veličina X . Určete typ jejího rozdělení pravděpodobnosti, její pravděpodobnostní funkci $p(x)$, střední hodnotu $E(X)$, rozptyl $D(X)$, směrodatnou odchylku $\sigma(X)$, medián $x_{0.5}$, modus \hat{x} a $P(1 < X \leq 3)$. Předpokládejte (na rozdíl od řešeného příkladu 6), že se vybraný výrobek nevrací nazpět do dodávky, takže jde o náhodný výběr bez vracení.

Řešení Náhodná veličina X má rozdělení $H(N, M, n)$, kde $N = 50, M = 5$ a $n = 3$. Náhodná veličina

X nabývá hodnot $x = 0, 1, 2, 3$ a její pravděpodobnostní funkce je

$$p(x) = \frac{\binom{5}{x} \binom{45}{3-x}}{\binom{50}{3}} \quad \text{pro } x = 0, 1, 2, 3.$$

Ze vzorců můžeme vypočítat následující číselné charakteristiky.

Střední hodnota $E(X) = n \frac{M}{N} = 3 \cdot 0.1 = 0.3,$

Rozptyl $D(X) = n \frac{M}{N} \left(1 - \frac{M}{N}\right) \frac{N-n}{N-1} = 3 \cdot 0.1 \cdot 0.9 \cdot (47/49) \doteq 0.25898,$

Směrodatná odchylka $\sigma(X) = \sqrt{D(X)} \doteq \sqrt{0.25898} \doteq 0.50890,$

Medián $x_{0.5} = 0,$ neboť $F(x) = p(0) = \frac{\binom{5}{0} \binom{45}{3-0}}{\binom{50}{3}} \doteq 0.72398 > 0.5,$ pro $x \in (0, 1)$

Modus $\hat{x} = 0,$ neboť $a = \frac{(M+1)(n+1)}{N+2} \doteq 0.46154,$ takže $a - 1 \doteq -0.53846,$

Z pravděpodobnostní funkce pak lze přímo vypočítat pravděpodobnost

$$P(1 < X \leq 3) = p(2) + p(3) \doteq 0.02296 + 0.00051 = 0.02347.$$

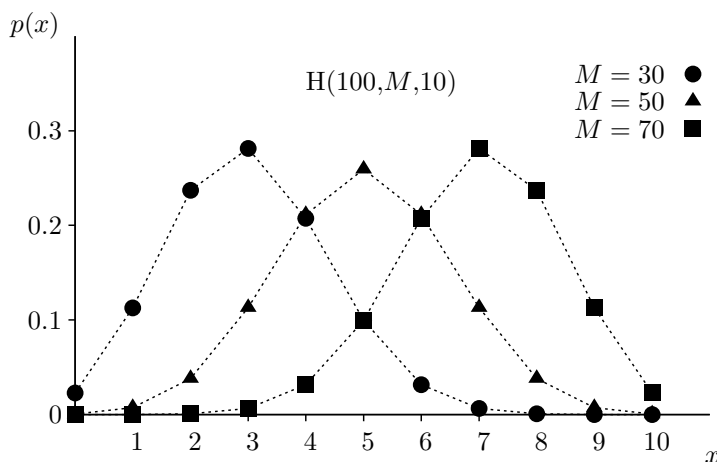
11. Pojem Náhodná veličina s **Poissonovým rozdělením** $Po(\lambda)$, kde λ je reálné číslo, $\lambda > 0$, má pravděpodobnostní funkci

$$p(x) = \frac{\lambda^x}{x!} e^{-\lambda}, \quad x = 0, 1, \dots$$

12. Vlastnosti Náhodná veličina s Poissonovým rozdělením má následující číselné charakteristiky

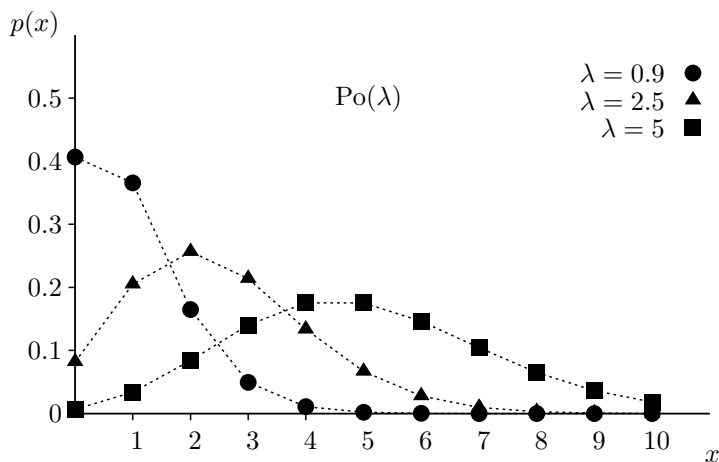
$$\begin{aligned} E(X) &= \lambda, \\ D(X) &= \lambda, \\ A_3(X) &= \frac{1}{\sqrt{\lambda}} \\ \lambda - 1 &\leq \hat{x} \leq \lambda \end{aligned}$$

Poissonovo rozdělení se obvykle užívá pro vyjádření pravděpodobnosti počtu nastoupení sledovaného jevu v určitém časovém intervalu (počet poruch, nehod, katastrof, zmetků apod.) s malou pravděpodobností výskytu.



Obrázek 2: Grafy pravděpodobnostní funkce hypergeometrického rozdělení pro $N = 100$, $n = 10$ a různé hodnoty M . Přerušovaná čára je použita pouze pro odlišení jednotlivých pravděpodobnostních funkcí.

13. Poznámka Na Obrázku 3 jsou uvedeny příklady pravděpodobnostních funkcí Poissonova rozdělení.



Obrázek 3: Grafy pravděpodobnostní funkce Poissonova rozdělení pro různé hodnoty λ . Přerušovaná čára je použita pouze pro odlišení jednotlivých pravděpodobnostních funkcí.

14. Příklad Statistickým průzkumem bylo zjištěno, že během jedné minuty navštíví prodejnu průměrně 3 zákazníci. Najděte vhodný typ rozdělení pravděpodobnosti náhodné veličiny X vyjadřující počet zákazníků, kteří navštíví prodejnu během jedné minuty. Určete její pravděpodobnostní funkci $p(x)$, střední počet zákazníků $E(X)$, rozptyl $D(X)$ a směrodatnou odchylku $\sigma(X)$ počtu zákazníků, koeficient šikmosti $A_3(X)$ a nejpravděpodobnější počet zákazníků za jednu minutu. Určete dále pravděpodobnost, že během jedné minuty přijde a) právě 1 zákazník, b) aspoň 1 zákazník, c) medián $x_{0.5}$ počtu zákazníků.

Řešení Nahradíme střední počet zákazníků, kteří navštíví prodejnu během jedné minuty, jejich průměrným počtem, tj. položíme $E(X) = \bar{x}$. Vzhledem k tomu, že nemáme další informace o rozdělení pravděpodobnosti náhodné veličiny X (např. o rozptylu $D(X)$ a koeficientu šikmosti $A_3(X)$), použijeme Poissonovo rozdělení pravděpodobnosti $Po(\lambda)$ s pravděpodobnostní funkcí

$$p(x) = \frac{3^x}{x!} e^{-3}, \quad x = 0, 1, \dots$$

Ze vzorců můžeme vypočítat následující číselné charakteristiky.

Střední hodnota	$E(X) = \lambda = 3,$
Rozptyl	$D(X) = \lambda = 3,$
Směrodatná odchylka	$\sigma(X) = \sqrt{D(X)} = \sqrt{3} \doteq 1.73205,$
Koeficient šikmosti	$A_3(X) = 1/\sqrt{\lambda} = 1/\sqrt{3} \doteq 0.57735,$
Modus (nejpravděpodobnější počet zákazníků)	$\hat{x} = 2$ a $3,$ neboť $\lambda - 1 \leq \hat{x} \leq \lambda,$

Z pravděpodobnostní funkce pak lze přímo vypočítat pravděpodobnosti

- a) $P(X = 1) = p(1) = \frac{3^1}{1!} e^{-3} \doteq 0.14936,$
- b) $P(X \geq 1) = p(1) + p(2) + \dots = 1 - p(0) = 1 - \frac{3^0}{0!} e^{-3} \doteq 1 - 0.04979 = 0.95021,$
- c) Medián je $x_{0.5} = 3,$ neboť $p(0) + p(1) + p(2) \doteq 0.42319 < 0.5$ a $p(0) + p(1) + p(2) + p(3) \doteq 0.64723 > 0.5.$

Spojitá rozdělení pravděpodobnosti

15. Pojem Náhodná veličina s **Rovnoměrným rozdělením** $R(a, b)$, kde a, b jsou reálná čísla, $a < b$, má hustotu

$$f(x) = \begin{cases} \frac{1}{b-a} & \text{pro } x \in \langle a, b \rangle \\ 0 & \text{pro } x \notin \langle a, b \rangle \end{cases}$$

16. Vlastnosti Náhodná veličina s Rovnoměrným rozdělením má distribuční funkci

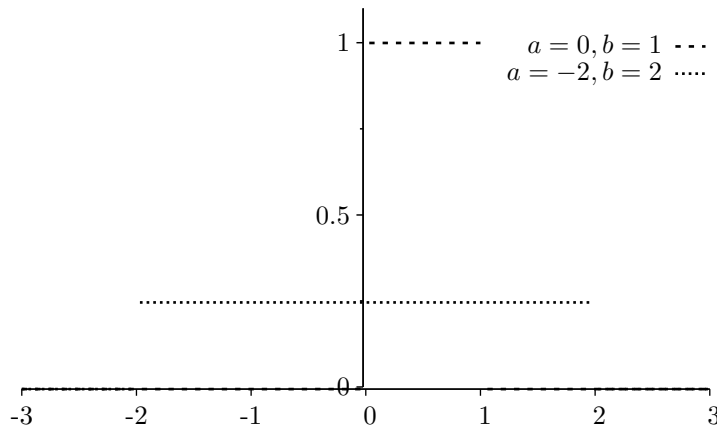
$$F(x) = \begin{cases} 0 & \text{pro } x \notin (-\infty, a) \\ \frac{x-a}{b-a} & \text{pro } x \in \langle a, b \rangle \\ 1 & \text{pro } x \notin (b, \infty) \end{cases}$$

a následující číselné charakteristiky

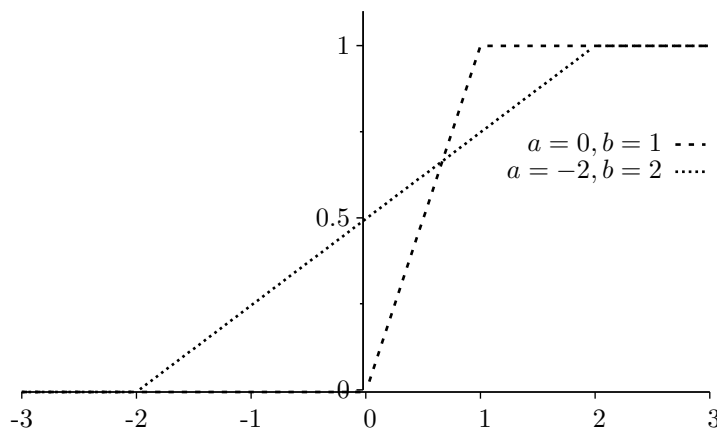
$$\begin{aligned} E(X) &= x_{0.5} = \frac{a+b}{2}, \\ D(X) &= \frac{(b-a)^2}{12}, \\ A_3(X) &= 0 \end{aligned}$$

Rovnoměrné rozdělení slouží především k simulaci reálných procesů nebo numerickým výpočtům tzv. **metodou Monte Carlo** na počítači pomocí generátorů tzv. **pseudonáhodných čísel**.

17. Poznámka Na Obrázku 4 jsou grafy hustot pravděpodobnosti a na Obrázku 5 grafy odpovídajících distribučních funkcí rovnoměrného rozdělení pro různé hodnoty parametrů a a b .



Obrázek 4: Grafy hustot rovnoměrného rozdělení pro různé hodnoty parametrů a a b .



Obrázek 5: Grafy distribučních funkcí rovnoměrného rozdělení pro různé hodnoty parametrů a a b .

18. Příklad K přerušení optického kabelu v délce 500 m může dojít v libovolné vzdálenosti od jeho

počátku, přičemž pravděpodobnost náhodného jevu, že dojde k přerušení v nějakém úseku je přímo úměrná délce úseku a nezávisí na jeho poloze. Určete rozdělení pravděpodobnosti náhodné veličiny X vyjadřující vzdálenost místa přerušení od počátku, její hustotu pravděpodobnosti a základní číselné charakteristiky a pravděpodobnost, že k přerušení kabelu dojde v úseku od 300 m do 400 m.

Řešení Náhodná veličina X má rozdělení $R(a, b)$, kde $a = 0$ a $b = 500$ s hustotou pravděpodobnosti

$$f(x) = \begin{cases} \frac{1}{500} & \text{pro } x \in \langle 0, 500 \rangle \\ 0 & \text{pro } x \notin \langle 0, 500 \rangle \end{cases}$$

Ze vzorců můžeme vypočítat následující číselné charakteristiky.

Střední hodnota a medián $E(X) = x_{0.5} = \frac{0+500}{2} = 250\text{m}$,

Rozptyl $D(X) = \frac{(500-0)^2}{12} \doteq 20833.33\text{m}^2$,

Směrodatná odchylka $\sigma(X) = \sqrt{D(X)} \doteq \sqrt{20833.3} \doteq 144.34\text{m}$,

Koeficient šikmosti $A_3(X) = 0$.

Z pravděpodobnostní funkce pak lze přímo vypočítat pravděpodobnost

$$P(300 \leq X \leq 400) = F(400) - F(300) = \frac{400}{500} - \frac{300}{500} = 0.2.$$

19. Pojem Náhodná veličina s **Normálním rozdělením** $N(\mu, \sigma^2)$, kde μ, σ^2 jsou reálná čísla, a $\sigma^2 > 0$, má hustotu

$$f(x) = \frac{1}{\sigma\sqrt{2\pi}} \exp\left\{-\frac{(x-\mu)^2}{2\sigma^2}\right\}, \quad x \in (-\infty, \infty)$$

20. Vlastnosti Náhodná veličina s Normálním rozdělením má následující číselné charakteristiky

$$E(X) = x_{0.5} = \hat{x} = \mu,$$

$$D(X) = \sigma^2,$$

$$A_3(X) = 0$$

Normální rozdělení, které je nejčastěji užívaným rozdělením, je také nazýváno **Gaussovo rozdělení**. Má řadu významných teoretických vlastností a z hlediska aplikací bývá vhodné k vyjádření náhodných veličin, které lze interpretovat jako aditivní výsledek mnoha nezávislých vlivů (např. chyba měření, odchylka rozměru výrobku od požadované hodnoty apod.).

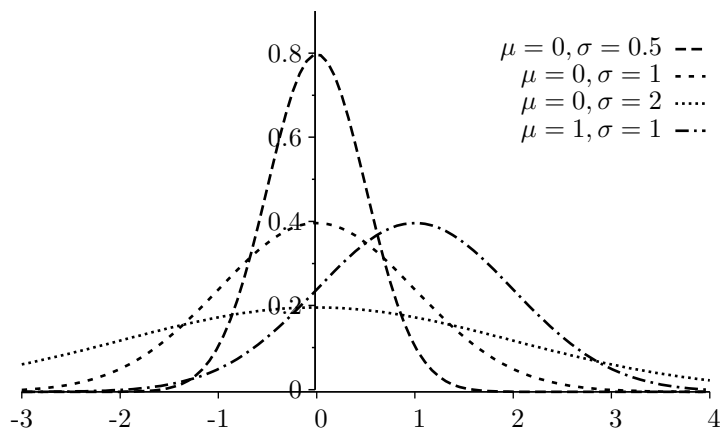
21. Poznámka Na Obrázku 6 jsou grafy hustot pravděpodobnosti a na Obrázku 7 grafy odpovídajících distribučních funkcí normálního rozdělení pro různé hodnoty parametrů μ a σ .

22. Vlastnosti Jestliže náhodná veličina X má normální rozdělení $N(\mu, \sigma^2)$, pak náhodná veličina $Y = aX + b$, kde a, b jsou reálná čísla, $a \neq 0$, má normální rozdělení $N(a\mu + b, a^2\sigma^2)$.

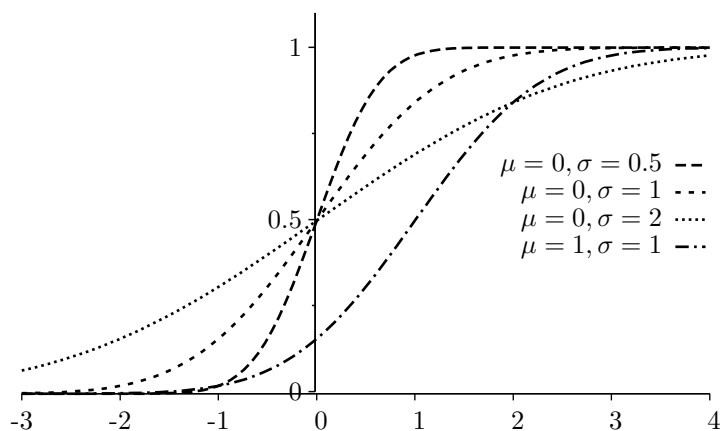
23. Pojem Transformací náhodné veličiny X s normálním rozdělením $N(\mu, \sigma^2)$ na náhodnou veličinu

$$U = \frac{X - \mu}{\sigma}$$

dostaneme náhodnou veličinu s **normovaným (základním) normálním rozdělením** $N(0,1)$ s distribuční funkcí $\Phi(u)$.



Obrázek 6: Grafy hustot Normálního rozdělení s různými hodnotami parametrů μ, σ^2



Obrázek 7: Grafy distribučních funkcí Normálního rozdělení s různými hodnotami parametrů μ, σ^2

24. Vlastnosti Pro hodnoty $\Phi(u)$ distribuční funkce normovaného normálního rozdělení platí

$$\Phi(-u) = 1 - \Phi(u).$$

Pro kvantily normovaného normálního rozdělení je

$$u_{1-P} = -u_P, \quad 0 < P < 1.$$

Jestliže náhodná veličin X má normální rozdělení $N(\mu, \sigma^2)$, potom lze její distribuční funkci vyjádřit jako

$$F(x) = \Phi\left(\frac{x - \mu}{\sigma}\right)$$

a její kvantily jsou

$$x_P = \mu + \sigma u_P, \quad 0 < P < 1.$$

Hodnoty distribuční funkce $\Phi(u)$ normované náhodné veličiny U jsou tabelovány v tabulce **T1**. K výpočtu hodnot $\Phi(u)$ a kvantilů u_P na PC lze také použít vhodný software (např. Statistica, Statgraphics, Excel aj.).

25. Příklad Určete pravděpodobnost, že náhodná veličina X s normálním rozdělením pravděpodobnosti $N(20;16)$, nabude hodnotu

1. menší než 16,
2. větší než 20,
3. v mezích od 12 do 28,
4. menší než 12 nebo větší než 28.

Řešení Ze vztahu $F(x) = \Phi\left(\frac{x-20}{4}\right)$ a tabulky **T1** dostaneme:

1. $P(X < 16) = F(16) = \Phi((16 - 20)/4) = \Phi(-1) = 1 - \Phi(1) = 1 - 0.84135 = 0.15865$,
2. $P(X > 20) = 1 - P(X \leq 20) = 1 - F(20) = 1 - \Phi((20 - 20)/4) = 1 - \Phi(0) = 1 - 0.5 = 0.5$,
3. $P(12 \leq X \leq 28) = F(28) - F(12) = \Phi((28 - 20)/4) - \Phi((12 - 20)/4) = \Phi(2) - \Phi(-2) = \Phi(2) - (1 - \Phi(2)) = 2\Phi(2) - 1 = 2 \cdot 0.97725 - 1 = 0.95450$,
4. $P((X < 12) \vee (X > 28)) = 1 - P(12 \leq X \leq 28) = 1 - 0.9545 = 0.0455$.

26. Příklad Měření délkového rozměru je zatíženo systematickou chybou 0.5 mm a náhodnou chybou s normálním rozdělením pravděpodobnosti s rozptylem 0.09 mm^2 . Určete, pro jakou hodnotu δ bude celková chyba jednoho měření v mezích $0.5 - \delta$ až $0.5 + \delta$ s pravděpodobností 0.95.

Řešení Chyba jednoho měření X má normální rozdělení s parametry $\mu = 0,5$ a $\sigma^2 = 0.09$, neboť u náhodné chyby předpokládáme, že má nulovou střední hodnotu, takže

$$\begin{aligned} P(0.5 - \delta \leq X \leq 0.5 + \delta) &= F(0.5 + \delta) - F(0.5 - \delta) = \\ &= \Phi\left(\frac{\delta}{0.3}\right) - \Phi\left(-\frac{\delta}{0.3}\right) = 2\Phi\left(\frac{\delta}{0.3}\right) - 1 = 0.95. \end{aligned}$$

Odtud je $\Phi\left(\frac{\delta}{0.3}\right) = 0.975$, takže $\frac{\delta}{0.3} = u_{0.975}$. Protože z tabulky **T1** je $u_{0.975} = 1.960$, je $\delta = 0.3 \cdot 1.960 = 0.588$. S pravděpodobností 0.95 bude celková chyba jednoho měření v intervalu $\langle -0.088; 1.088 \rangle \text{mm}$.